

AUFNAHMETEST MUSIKKUNDE

ECM Advanced

Datum: _____

Instrument: _____

Name: _____

Ergebnis: _____

bestanden

nicht bestanden

1. Vergleiche die zwei nacheinander gespielten Töne. Ist der zweite Ton *gleich hoch* (**G**), *höher* (**H**) oder *tiefer* (**T**) als der erste?

a _____ b _____ c _____ d _____ e _____ f _____

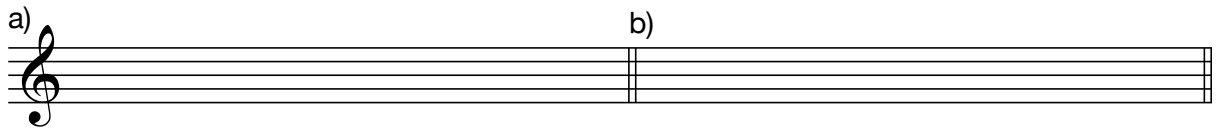
2. Bestimme die gehörten Intervalle (keine Feinbestimmung). Z.B. Sekund = **2**, Terz = **3**, ...

a _____ b _____ c _____ d _____ e _____ f _____ g _____ h _____

3. Definiere bei den folgenden Dreiklängen, ob es sich um einen Dur- oder Moll-Akkord handelt.


a _____ b _____ c _____ d _____


4. Notiere die Töne in der gehörten Reihenfolge.

a) 


c) 


5. Notiere den Rhythmus:

a) 

b) 

6. Bilde aus folgenden Tönen eine Tonleiter und benenne sie:

a) 

b) 

Auswertung:

- 1. _____ (6)
- 2. _____ (8)
- 3. _____ (4)
- 4. _____ (8)
- 5. _____ (4)
- 6. _____ (4) GESAMT: _____ (34)